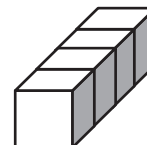
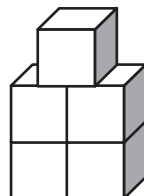
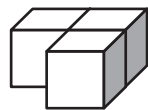
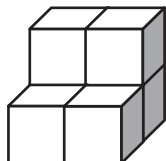
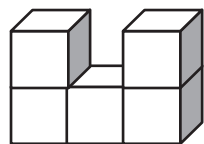
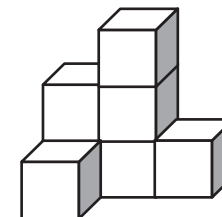
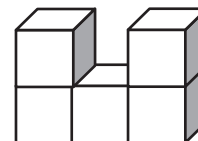
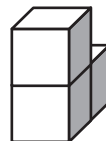
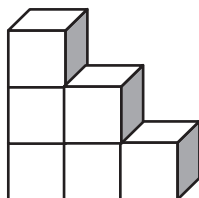
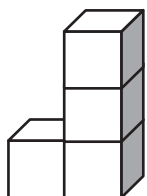
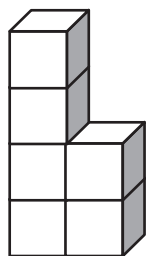


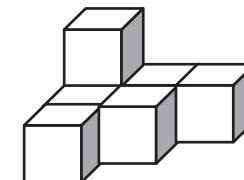
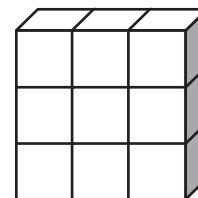
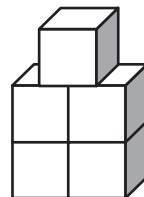
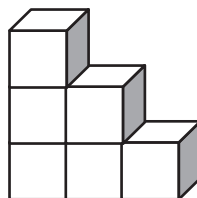
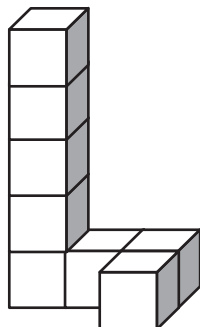
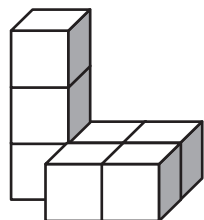
①

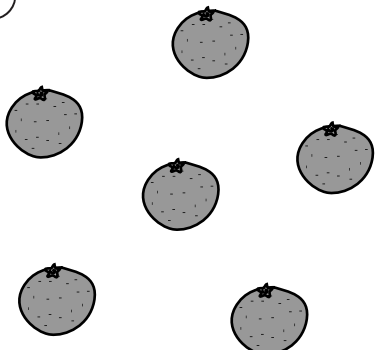
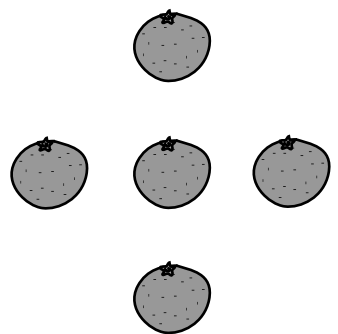
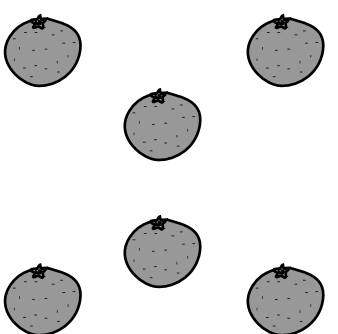

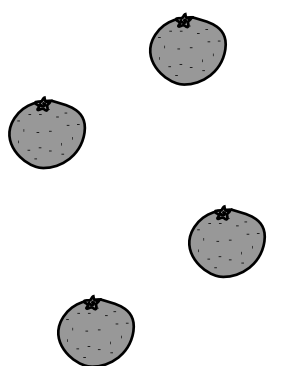



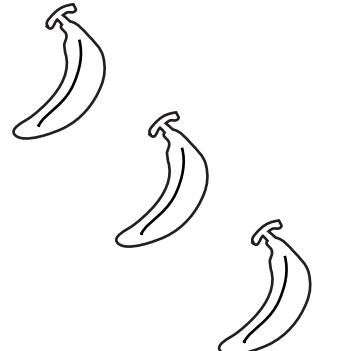












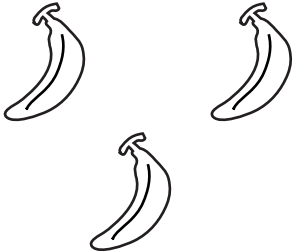



②









③



<p>①</p> 				
<p>②</p> 				
<p>③</p> 				

①  	
②  	
③  	

確認問題「数量」第1回 問題文と解答

問題1

左の四角の中の積み木の数と同じ数のものを、右の四角の中から見つけて、赤のクーピーペンで○をつけましょう。①ができれば②・③も同じように○をつけましょう。

(暁星小学校 2012年)

解答…(赤のクーピーペンで○を) ①真ん中 ②左から2番目 ③右端

問題2

左の四角の中の数と同じ数のものを、右の四角の中から見つけて、青のクーピーペンで○をつけましょう。①ができれば②・③も同じように○をつけましょう。

(東京女学館小学校 2010年)

解答…(青のクーピーペンで○を) ①左から2番目 ②右端 ③左端

問題3

上の四角の中のように、それぞれの数のバナナを動物たちが食べます。左の四角の中にかかっている動物たちが食べるバナナの数、合わせていくつになるでしょう。右の四角の中に、その数だけ、鉛筆で○をかきましよう。①ができれば②・③も同じように○をかきましよう。

(同志社小学校 2011年)

解答…(鉛筆で○を) ①4つ ②7つ ③6つ

★ご案内★

今回の『確認問題「数量」第1回』はいかがでしたでしょうか。

今回の3問が不正解だったお子さま、又は、今回の3問は正解したが本当にそれだけの力がついているのかを確かめたいという方は、別売りの

『確認問題「数量」第1回 (学習強化編)』

(各6問 合計18問 500円 ダウンロード販売)

で、学習強化を図ってください。

入試前までに、どの問題も確実に正解できるようにしておきましょう。

終