
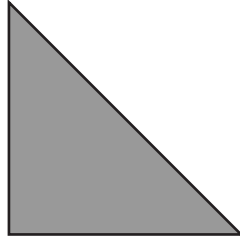
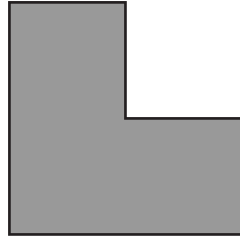







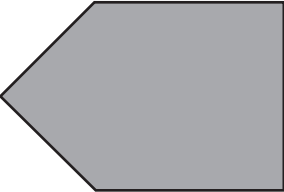
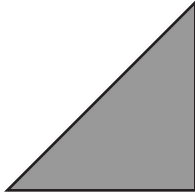



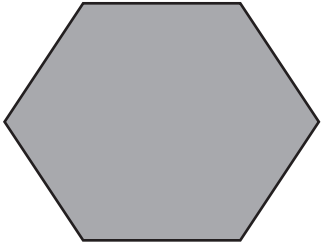




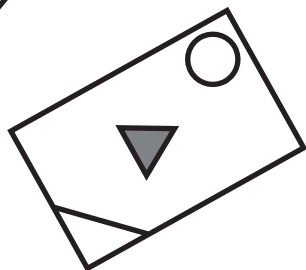
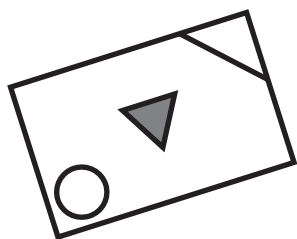

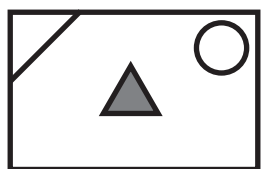
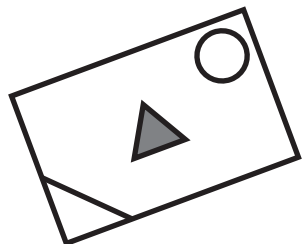
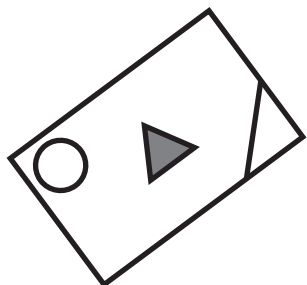
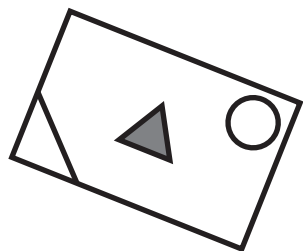

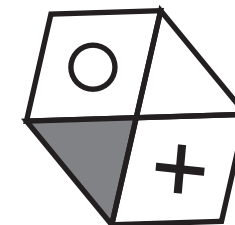
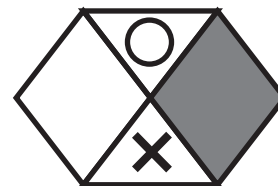
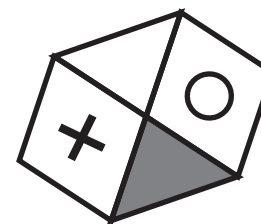
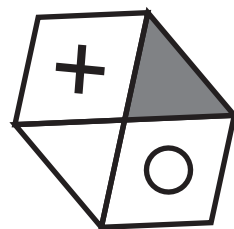
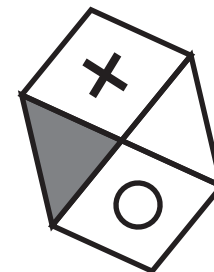
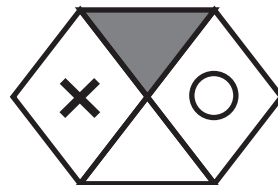
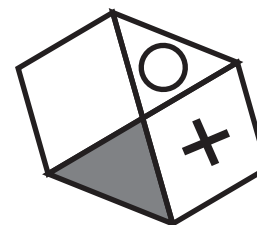
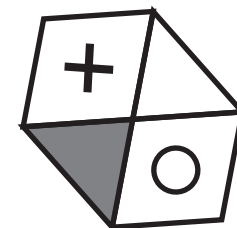






















<p>①</p> 	   
<p>②</p> 	   
<p>③</p> 	   
<p>④</p> 	   

①



②



① 				
② 				
③ 				
④ 				

確認問題「図形」第1回 問題文と解答

問題1

左の形を作るのに使う形を、右の中から2つ選び、青のクーピーペンで○をつけましょう。①ができたなら②～④も同じように○をつけましょう。(日本女子大学附属豊明小学校 2010年)

解答…(青のクーピーペンで○を) ①左端と右端 ②左端と右から2番目
③左から2番目と右から2番目 ④左から2番目と右端

問題2

左上の形と同じものを探して、青のクーピーペンで○をつけましょう。①ができたなら②も同じように○をつけましょう。(早稲田実業学校初等部 2011年)

解答…省略(それぞれ3つずつあります)

問題3

2枚の透明な板を重ねて左の形を作るには、右の中のどの板とどの板を重ねれば作れるでしょうか。右の中から正しいものを2つ選び、青のクーピーペンで○をつけましょう。①ができたなら②～④も同じように○をつけましょう。(追手門学院小学校 2011年)

解答…(青のクーピーペンで○を) ①左端と左から2番目 ②右から2番目と右端
③左から2番目と右端 ④左端と右端

終

★ご案内★

今回の『確認問題「図形」第1回』はいかがでしたでしょうか。

今回の3問が不正解だったお子さま、又は、今回の3問は正解したけど、本当にそれだけの力がついているのかを確かめたいという方は、別売りの

『確認問題「図形」第1回 (学習強化編)』 (500円 ダウンロード販売)

で、学習強化を図ってください。

入試前までに、どの問題も確実に正解できるようにしておきましょう。