
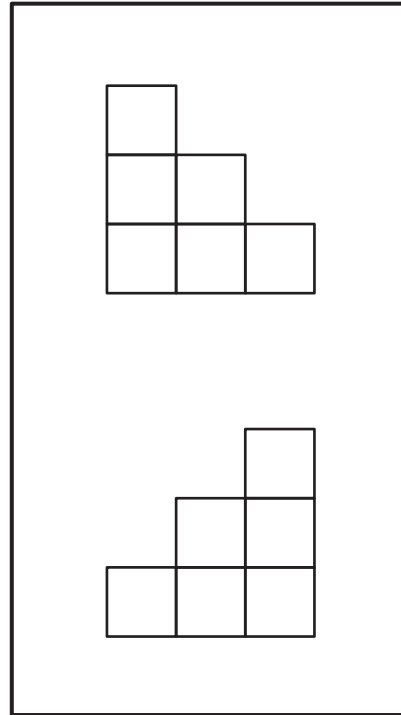
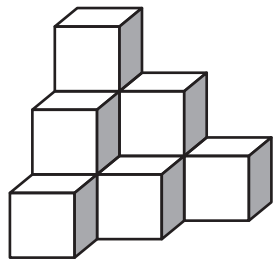

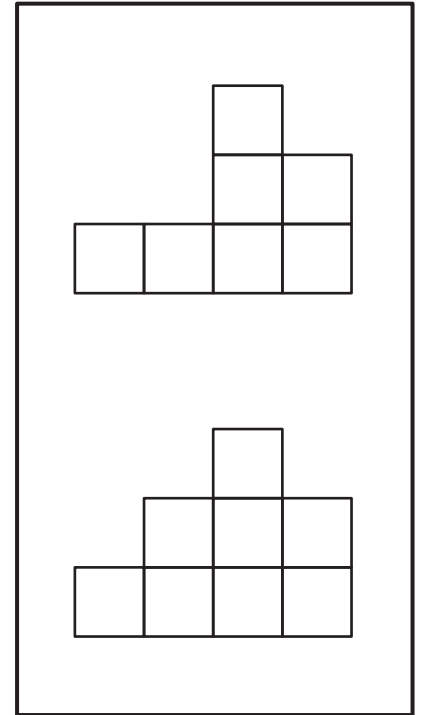
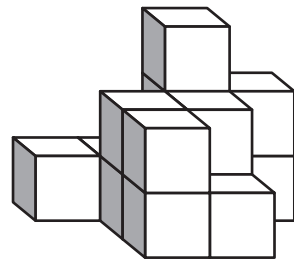


①



②



慶應義塾横浜初等部 H24 年秋実施入試問題類題

【問題文と解答】

問題 1 計数

上の大きな四角の中の虫の数を数えます。

- ・ バッタはいくついますか。赤のクレヨンでその数だけ、下のバッタの横の四角の中に○をかきましょう。
- ・ セミはいくついますか。赤のクレヨンでその数だけ、下のセミの横の四角の中に○をかきましょう。
- ・ カマキリはいくついますか。赤のクレヨンでその数だけ、下のカマキリの横の四角の中に○をかきましょう。
- ・ クワガタ虫はいくついますか。赤のクレヨンでその数だけ、下のクワガタ虫の横の四角の中に○をかきましょう。

【解答】 バッター 5、セミ 13、カマキリ 6、クワガタ 10

問題 2 計数

上の大きな四角の中の動物の数を数えます。

- ・ ネコはいくついますか。赤のクレヨンでその数だけ、下のネコの四角の中に○をかきましょう。
- ・ キツネはいくついますか。赤のクレヨンでその数だけ、下のキツネの横の四角の中に○をかきましょう。
- ・ イヌはいくついますか。赤のクレヨンでその数だけ、下のイヌの横の四角の中に○をかきましょう。
- ・ リスはいくついますか。赤のクレヨンでその数だけ、下のリスの横の四角の中に○をかきましょう。

【解答】 ネコ 7、キツネ 10、イヌ 5、リス 15

問題 3 図形模写

左のお手本とソックリ同じになるように、緑色のクレヨンで、右の絵に描き足しましょう。

【解答】 省略

問題 4 図形構成

上の四角の中のパズルを使ってできる形を下から選んで、青のクレヨンで線を結びましょう。

【解答】

(上段—下段) 左端—左から 2 番目、左から 2 番目—左から 3 番目、左から 3 番目—左端、左から 4 番目—右端、右端—右から 2 番目

問題 5 空間把握

四角い積木が積んであります。いくつの積木を使っているか数えて、下の四角の中に黒のクレヨンでその数だけ○をかきましょう。

【解答】 ① 1 0 ② 1 4

次に積木を矢印の方から見るとどのように見えるでしょうか。右の四角の中の 2 つの絵の中から正しいものを選んで黒のクレヨンで○をつけましょう。

【解答】 ① 下 ② 下

終

■解説と対策■

◇問題はどれも基本的なものです。制限時間が短くスピードを要します。パズルや積木などの具体物を使って学習することをお勧めいたします。印は全て○ですが、一問ずつクレヨンの色の指示があります。ご家庭でも色や印の指示を与えて練習しましょう。

全ての分野を幅広く学習しておきましょう。

◇富士チャイルドアカデミーの小学校受験コースは、4 名—クラスの少人数制で、基礎基本をじっくりと学習します。11 月から始まった授業では、まさに横浜初等部の出題と同じ、積木の数や、図形模写の学習をしています。毎週、出される宿題をご家庭で繰り返し学習することで確実に身につくようにしていきます。今年の入試で出題された、昔ながらの物も授業に多く取り入れられています。

早目の準備で、しっかりと横浜初等部対策をしていきましょう。

◇いつでも体験授業が受けられます。最寄りのお教室にお問い合わせ下さい。

吉祥寺教室・鷺沼教室・二子玉川教室・つくし野教室・横浜教室・新百合ヶ丘教室・相模大野教室

<http://fujichild.jp/>